

पुस्तिका में पृष्ठों की संख्या /
Number of Pages in Booklet : 32

पुस्तिका में प्रश्नों की संख्या /
Number of Questions in Booklet : 100

पूर्णांक / Maximum Marks : 100

समय / Time : 2 घंटे / Hours



इस परीक्षा पुस्तिका को तब तक न खोलें जब तक कहा न जाए। / Do not open this test booklet until you are asked to do so.

Question Booklet Number
प्रश्न पुस्तिका क्रमांक

अनुदेश / Instructions

- प्रश्न पत्र को हल करने से पहले, कृपया अपनी प्रश्न पुस्तिका और ओ.एम.आर. उत्तर-पत्रक की जांच करें और सुनिश्चित करें कि:
 - प्रश्न पुस्तिका और ओ.एम.आर. उत्तर-पत्रक की क्रम संख्या समान है।
 - प्रश्न पुस्तिका के सभी पृष्ठ ठीक से मुद्रित हैं और सभी पृष्ठों पर सारे प्रश्न मुद्रित हैं।

किसी भी विसंगति/दोष के मामले में, अभ्यर्थी को प्रश्न पुस्तिका और ओ.एम.आर. उत्तर-पत्रक को बदलने के लिए तुरंत अभिजागर को मामले की सूचना देनी चाहिए। परीक्षा प्रारम्भ होने के पांच मिनट बाद इस संबंध में किसी भी दावे/आपत्ति पर विचार नहीं किया जाएगा। इसके लिए अभ्यर्थी उत्तरदायी होगा।
Before attempting the question paper, kindly check your Question Booklet(QB) and O.M.R. Answer Sheet and ensure that:

 - Serial number of Question Booklet(QB) and OMR Answer Sheet is same.
 - All pages and all questions are properly printed

In case of any discrepancy/defect, the candidate should immediately report the matter to the Invigilator for replacement of Question Booklet(QB) and OMR Answer Sheet. No claim/objection in this regard will be entertained after five minutes of start of examination, candidate will be liable for the same.
- ओएमआर उत्तर-पत्रक के पीछे दिए गए सभी निर्देश पढ़ें।
Read all instructions on the reverse of OMR Answer Sheet.
- ओएमआर उत्तर-पत्रक पर केवल नीले बॉल प्वाइंट पेन का प्रयोग करें। कृपया, ओएमआर उत्तर-पत्रक में अपना रोल नंबर और अन्य जानकारी सही ढंग से भरें।
On OMR Answer Sheet, use blue ball point pen only. Please, fill your Roll No. and other information correctly in OMR Answer Sheet.
- यदि किसी प्रश्न के लिए एक से अधिक उत्तर अंकित किये जाते हैं तो उसे गलत उत्तर माना जायेगा।
If more than one response is marked for a question, it would be treated as wrong answer.
- प्रत्येक प्रश्न में पाँच विकल्प/गोले हैं। पहले चार विकल्प/गोले (A), (B), (C) और (D) उपयुक्त उत्तर से संबंधित हैं और पाँचवाँ विकल्प/गोला (E) 'अनुत्तरित प्रश्न' से संबंधित है।
Each question has five options/circles. First four options/circles (A), (B), (C) and (D) are related to appropriate answer and fifth option/circle (E) is related to 'Question not attempted'.
- सही उत्तर दर्शाने के लिए अभ्यर्थी को ओ.एम.आर. उत्तर-पत्रक पर संबंधित प्रश्न संख्या के पहले चार विकल्प (A), (B), (C) या (D) में से केवल एक विकल्प/गोले को नीले बॉल प्वाइंट पेन से भरना होगा। यदि अभ्यर्थी किसी प्रश्न का उत्तर नहीं देना चाहता है तो पाँचवें विकल्प/गोले (E) को गहरा करना होगा।
To indicate the correct answer, the candidate has to fill

in only one option/circle (A), (B), (C) or (D) with blue ball point pen for respective question number on the OMR Answer Sheet. If the candidate does not want to answer any question then the fifth option/circle (E) should be darkened.

- यदि पाँच विकल्पों में से कोई भी विकल्प/गोला गहरा नहीं किया गया तो प्रश्न का 1/3 भाग अंक काट लिया जायेगा।
1/3 part of the marks will be deducted for the questions, if none of the option/circle options are darkened.
- 10 प्रतिशत से अधिक प्रश्नों में किसी भी विकल्प/गोले को अभ्यर्थी द्वारा गहरा नहीं किया गया तो उसे परीक्षा के लिए अयोग्य घोषित कर दिया जाएगा।
If a candidate leaves more than 10 percent questions or does not darken any of the five options, he/she will be disqualified for the exam.
- अभ्यर्थी को प्रत्येक प्रश्न के लिए कम से कम एक विकल्प/गोला भरा है या नहीं यह सुनिश्चित करने के लिए 10 मिनट अतिरिक्त दिए जाएंगे।
Candidate will be given 10 minutes extra to make sure, if he/she has filled up any one option/circle for each questions.
- यदि प्रश्न के हिन्दी या अंग्रेजी संस्करण में मुद्रण या तथ्यात्मक प्रकृति की किसी भी प्रकार की अस्पष्ट/गलती है, तो अंग्रेजी संस्करण को अंतिम माना जाएगा।
If there is any sort of ambiguity / mistake either of printing or factual in nature in Hindi or English version of questions, then the English Version will be treated as final.
- परीक्षा हॉल में मोबाइल फोन/ब्लूटूथ डिवाइस या किसी अन्य इलेक्ट्रॉनिक गैजेट का उपयोग सख्त वर्जित है। यदि किसी अभ्यर्थी के पास ऐसी कोई प्रतिबंधित सामग्री पाई गई तो उसके विरुद्ध नियमानुसार सख्त कार्रवाई की जाएगी।
Use of Mobile Phone / Bluetooth Device or any other electronic gadget in the examination hall is strictly prohibited. If any such prohibited material is found with any candidate, strict action will be taken against him/her as per rules.

चेतावनी : यदि कोई अभ्यर्थी नकल करते हुए पाया जाता है या अनुचित तरीके अपनाते हुए पाया जाता है या उसके पास कोई अनाधिकृत सामग्री पाई जाती है तो उसके खिलाफ पुलिस स्टेशन में एफ.आई.आर. दर्ज की जाएगी और वह राज्य सार्वजनिक परीक्षा अधिनियम, 2022 और संशोधन अधिनियम 2023, (भर्ती में अनुचित साधनों की रोकथाम के अध्यापय) के तहत मुकदमा चलाने के लिए उत्तरदायी होगा जिसमें 10 वर्ष से आजीवन कारावास तथा ₹ 1 करोड़ तक का प्रावधान है। उसे बोर्ड की भविष्य की सभी परीक्षाओं से स्थायी रूप से विवर्जित भी किया जा सकता है।

Warning : If a candidate is found copying or using unfair means or if any unauthorized material is found in his/her possession, F.I.R will be lodged against him/her in the Police Station and he/she would be liable to be prosecuted under State Public Examination (Measures for Preventions of Unfair Means in Recruitment) Act. 2022 and Amendment Act 2023. The act has provisions of imprisonment of 10 years to life and fine up to ₹ 1 crore. Board may also debar him/her permanently from all future examinations conducted by the Board.

1 Fill in the blank in the sentence given, choosing the most suitable article from the options provided.

I take nearly _____ hour to eat my tiffin.

- (A) on (B) the
(C) an (D) a
(E) Question not attempted

2 Fill in the blank in the sentence given, choosing the most appropriate word from the options provided.

The _____ times that I met him in the park, walking his dog, he looked worried.

- (A) few (B) many
(C) more (D) a few
(E) Question not attempted

3 Fill in the blank in the sentence given, choosing the most appropriate word from the options provided.

I don't take _____ sugar in my tea, as I am health conscious.

- (A) much (B) many
(C) little (D) a little
(E) Question not attempted

4 If $1\frac{1}{4} + \frac{1}{6\frac{2}{3}} - \frac{1}{x} + \frac{1}{10} = \frac{11}{12}$ then the value of x is

यदि $1\frac{1}{4} + \frac{1}{6\frac{2}{3}} - \frac{1}{x} + \frac{1}{10} = \frac{11}{12}$ तब x का मान है :

- (A) $\frac{15}{4}$ (B) $\frac{60}{59}$
(C) $\frac{15}{2}$ (D) $\frac{12}{13}$
(E) Question not attempted / अनुत्तरित प्रश्न

5 Solution of $\frac{0.3 \times 0.3 + 0.03 \times 0.03 - 0.6 \times 0.03}{0.54}$ is

$\frac{0.3 \times 0.3 + 0.03 \times 0.03 - 0.6 \times 0.03}{0.54}$ का हल है-

- (A) 0.5 (B) 0.03
(C) 0.135 (D) 0.982
(E) Question not attempted / अनुत्तरित प्रश्न

6 Which constitutional amendment provided a three tier system of Panchayati Raj for all state having population of over twenty lakhs ?

- (A) 42nd amendment (B) 44th amendment
(C) 25th amendment (D) 73rd amendment
(E) Question not attempted

संविधान के किस संशोधन के द्वारा 20 लाख से अधिक जनसंख्या वाले प्रत्येक राज्य में त्रिस्तरीय पंचायती राज प्रणाली लागू की गई?

- (A) 42 वां संशोधन (B) 44 वां संशोधन
(C) 25 वां संशोधन (D) 73 वां संशोधन
(E) अनुत्तरित प्रश्न

7 At the time of revolt of 1857 who was the Mughal Emperor of India?

- (A) Bahadur Shah Rangila (B) Shah Alam
(C) Ahmed Shah (D) Bahadur Shah II
(E) Question not attempted

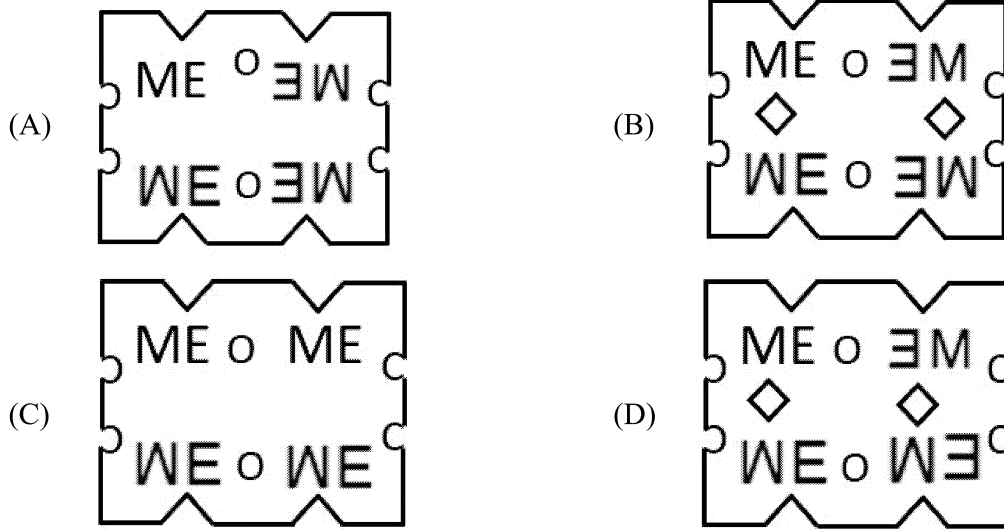
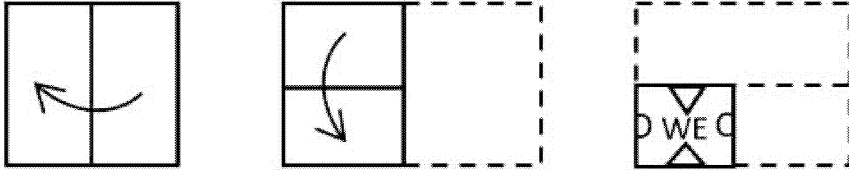
सन् 1857 के विद्रोह के समय भारत में मुगल बादशाह कौन था?

- (A) बहादुर शाह रंगीला (B) शाह आलम
(C) अहमद शाह (D) बहादुर शाह II
(E) अनुत्तरित प्रश्न

- 8 A piece of paper is first folded and a cuts are made as shown below. From the given responses indicate how it will appear when opened?

जैसा कि नीचे चित्र में दिखाया गया है, एक कागज के टुकड़े को पहले मोड़ा और फिर काटा जाता है। मोड़े गए कागज के टुकड़े को खोलने पर उसकी आकृति नीचे दिए गए आकृति में से कौन सी होगी?

Problem figures / समस्या चित्र



(E) Question not attempted / अनुत्तरित प्रश्न

- 9 Which conclusion would follow on the basis of given statements.

Statement A : If there is a shortage in the production of onions, the price of onions will go up.

B : Price of onions has gone up.

Conclusions : I : There was shortage in the production of onions.

II : Onions were exported.

- (A) Only I follows (B) Only II follows
(C) Neither I nor II follow (D) Both I and II follow
(E) Question not attempted

दिए गए कथनों के आधार पर कौन-सा निष्कर्ष निकलेगा-

कथन **A :** अगर प्याज के उत्पादन में कमी होगी, तो प्याज की कीमत बढ़ जाएगी।

B : प्याज की कीमत बढ़ गयी है।

निष्कर्ष - I : प्याज के उत्पादन में कमी आई।

II : प्याज का निर्यात किया गया।

- (A) केवल I अनुसरण करता है।
(B) केवल II अनुसरण करता है।
(C) ना तो I अनुसरण करता है ना ही II अनुसरण करता है।
(D) दोनों I और II अनुसरण करते हैं।
(E) अनुत्तरित प्रश्न

10 Which conclusion would follow on the basis of given statements.

Statement A : Without rains the crops will not be bountiful.

B : The crops were bountiful.

Conclusions : I : There were rains.

II : Crops were bountiful due to good fertilizers.

- (A) Only I follows (B) Only II follows
(C) Neither I nor II follow (D) Both I and II follow
(E) Question not attempted

दिए गए कथनों के आधार पर कौन-सा निष्कर्ष निकलेगा?

कथन : A : वर्षा के बिना फसलें बढ़िया नहीं होगी।

B : फसलें बढ़िया थीं।

निष्कर्ष : I : बारिश हुई थी।

II : अच्छी उर्वरकों के कारण फसलें बढ़िया हुईं।

- (A) केवल I अनुसरण करता है।
(B) केवल II अनुसरण करता है।
(C) ना तो I अनुसरण करता है और ना ही II अनुसरण करता है।
(D) दोनों I और II अनुसरण करते हैं।
(E) अनुत्तरित प्रश्न

11 Right to Free and Compulsory Education Act, 2009 is being implemented in Rajasthan since _____.

- (A) 1st April 2009 (B) 26th April 2009
(C) 1st April 2010 (D) 5th April 2012
(E) Question not attempted

राजस्थान में निःशुल्क एवं अनिवार्य शिक्षा का अधिकार अधिनियम 2009 _____ से लागू किया गया।

- (A) 1 अप्रैल 2009 (B) 26 अप्रैल 2009
(C) 1 अप्रैल 2010 (D) 5 अप्रैल 2012
(E) अनुत्तरित प्रश्न

12 Who among the following received the “Arjuna award” in 2023?

- (A) Mohammed Shami (Cricket) (B) Lalit Kumar (Wrestling)
(C) Shivendra Singh (Hockey) (D) Manjusha Kanwar (Badminton)
(E) Question not attempted

इनमें से किसे 2023 में ‘अर्जुन पुरस्कार’ प्राप्त हुआ है?

- (A) मोहम्मद शमी (क्रिकेट) (B) ललित कुमार (कुश्ती)
(C) शिवेंद्र सिंह (हॉकी) (D) मंजूषा कंवर (बैडमिंटन)
(E) अनुत्तरित प्रश्न

13 Match List-I with List-II

List-I	List-II
(Form of Dance)	(State)
a. Bharatnatyam	I. Andhra Pradesh
b. Kathak	II. Kerala
c. Kathakali	III. Uttar Pradesh
d. Kuchipudi	IV. Tamil Nadu

सूची -I को सूची -II से सुमेलित कीजिए :

सूची -I	सूची -II
(नृत्य का रूप)	(राज्य)
a. भरतनाट्यम्	I. आंध्र प्रदेश
b. कथक	II. केरल
c. कथकली	III. उत्तर प्रदेश
d. कुचिपुड़ी	IV. तमिलनाडु

Choose the most appropriate answer from the options given below:

नीचे दिए गए विकल्पों में से सर्वाधिक उपयुक्त उत्तर चुनिए :

- (A) a - IV, b - III, c - II, d - I (B) a - II, b - III, c - IV, d - I
(C) a - III, b - IV, c - I, d - II (D) a - IV, b - II, c - III, d - I
(E) Question not attempted / अनुत्तरित प्रश्न

14 The Treaty of Badgaon (1779) was signed between _____ and the British.

- (A) Maratha (B) Nawab of Awadh
(C) Hyder Ali (D) Rajputs
(E) Question not attempted

सन् 1779 में बडगांव की संधि _____ और अंग्रेजों के बीच हस्ताक्षरित हुई

- (A) मराठों (B) अवध का नवाब
(C) हैदर अली (D) राजपूतों
(E) अनुत्तरित प्रश्न

15 Who were the founders of Swaraj party?

- (A) Madan Mohan Malaviya and S.C. Bose (B) Mahatma Gandhi and Motilal Nehru
(C) Motilal Nehru and C.R. Das (D) Jawaharlal Nehru and Vinoba Bhave
(E) Question not attempted

स्वराज पार्टी के संस्थापक कौन थे?

- (A) मदन मोहन मालवीय और एस. सी. बोस (B) महात्मा गाँधी और मोतीलाल नेहरू
(C) मोतीलाल नेहरू और सी. आर. दास (D) जवाहर लाल नेहरू और विनोबा भावे
(E) अनुत्तरित प्रश्न

16 "Arab Spring"- phrase was used for the first time by_____.

- (A) Mark Wood (B) Mark Linch
(C) Crishchyan Paistorsh (D) George W. Bush
(E) Question not attempted

“अरब स्प्रिंग” वाक्यांश पहली बार किसके द्वारा प्रयोग किया गया था?

- (A) मार्क वुड (B) मार्क लिंग
(C) क्रिशचयन पैस्टोर्स (D) जॉर्ज डब्लु. बुश
(E) अनुत्तरित प्रश्न

17 Samp Sabha was established by _____.

- (A) Govind Guru (Giri) (B) Amrita Devi
(C) Dadu Dayal (D) Jasnath
(E) Question not attempted

‘सम्प सभा’ की स्थापना किसके द्वारा की गई थी?

- (A) गोविंद गुरु (गिरी) (B) अमृता देवी
(C) दादू दयाल (D) जसनाथ
(E) अनुत्तरित प्रश्न

18 The Quorum for any meeting of village assembly (Gram Sabha) is _____

- (A) 25% presence of the total strength (B) 10% presence of the total strength
(C) 5% presence of the total strength (D) 1% presence of the total strength
(E) Question not attempted

ग्राम सभा की किसी भी बैठक के लिए गणपूर्ति (कोरम) _____ होती है।

- (A) कुल संख्या की 25% उपस्थिति (B) कुल संख्या की 10% उपस्थिति
(C) कुल संख्या की 5% उपस्थिति (D) कुल संख्या की 1% उपस्थिति
(E) अनुत्तरित प्रश्न

19 Which is known as an Executive Committee of Gram Sabha?

- (A) Village Panchayat (B) Panchayat Samiti
(C) Panch Parishad (D) Village Standing Committee
(E) Question not attempted

निम्नलिखित में से किसे ग्राम सभा की कार्यकारी समिति के रूप में जाना जाता है?

- (A) ग्राम पंचायत (B) पंचायत समिति
(C) पंच परिषद (D) ग्राम स्थायी समिति
(E) अनुत्तरित प्रश्न

20 Which is not the Institution of Rural Local Self Government ?

- (A) Municipality (B) Village Panchayat
(C) Zila Parishad (D) Panchayat Samiti
(E) Question not attempted

निम्नलिखित में से कौन ग्रामीण स्थानीय स्व-निकाय की संस्था नहीं है?

- (A) नगरपालिका (B) ग्राम पंचायत
(C) जिला परिषद (D) पंचायत समिति
(E) अनुत्तरित प्रश्न

21 Which of the following is not a function of Panchayat Samiti? (Choose the most appropriate option from below)

- (A) Micro irrigation and drinking water
(B) Land reforms and soil conservation
(C) Statistics disaster aid, co-operative and library work
(D) Town Planning
(E) Question not attempted

निम्नलिखित में से कौन-सा पंचायत समिति का कार्य नहीं है? (निम्न में से सबसे उपयुक्त विकल्प को चुनें)

- (A) सूक्ष्म सिंचाई एवं पेयजल
(B) भूमि सुधार एवं मृदा संरक्षण
(C) सांख्यिकी, आपदा सहायता, सहकारिता एवं पुस्तकालय कार्य
(D) नगर नियोजन
(E) अनुत्तरित प्रश्न

22 Which of the following tasks can not be performed online (internet)? (Choose the most appropriate option from below)

- (A) Book Air tickets (B) Check for bank statement
(C) Shopping of clothes (D) Sowing of crops
(E) Question not attempted

निम्नलिखित में से कौन सा कार्य ऑनलाइन (इंटरनेट) पर नहीं किया जा सकता है? (निम्न में से सबसे उपयुक्त विकल्प को चुनें)

- (A) हवाई टिकट बुक करना (B) बैंक स्टेटमेंट की जाँच करना
(C) कपड़ों की खरीदारी (D) फसलो की बुआई
(E) अनुत्तरित प्रश्न

23 Which of the following is responsible to convert the data input by the user to the format understandable by computer?

- (A) Arithmetic Logic Unit (ALU) (B) Input devices
(C) Output devices (D) Operating system
(E) Question not attempted

निम्नलिखित में से कौन उपयोगकर्ता द्वारा इनपुट किए गए डेटा को कंप्यूटर द्वारा समझने योग्य प्रारूप में परिवर्तित करने के लिए जिम्मेदार होता है?

- (A) अरिथमेटिक लॉजिक यूनिट (ALU) (B) इन्पुट डिवाइस
(C) आउटपुट डिवाइस (D) ऑपरेटिंग सिस्टम
(E) अनुत्तरित प्रश्न

24 Who was appointed as Chief Information Commissioner of India in November 2023.

- (A) Wajahat Habibullah (B) Deepak Sandhu
(C) Rajeev Kumar (D) Heeralal Samariya
(E) Question not attempted

नवम्बर 2023 में, भारत के मुख्य सूचना आयुक्त के रूप में किसे नियुक्त किया गया?

- (A) वजाहत हबीबुल्ला (B) दीपक संधु
(C) राजीव कुमार (D) हीरालाल सामरिया
(E) अनुत्तरित प्रश्न

25 In which year the Oil and Natural Gas Commission (ONGC) was setup?

- (A) 1954 (B) 1956
(C) 1958 (D) 1962
(E) Question not attempted

ओ एन जी सी (ONGC) की स्थापना कब हुई?

- (A) 1954 ई. (B) 1956 ई.
(C) 1958 ई. (D) 1962 ई.
(E) अनुत्तरित प्रश्न

26 Where is the largest coal field situated in the state of Jharkhand?

- (A) Ramgarh (B) Jharia
(C) Karanpura (D) Korba
(E) Question not attempted

झारखण्ड राज्य में सबसे बड़ा कोयला क्षेत्र कहाँ पर स्थित है?

- (A) रामगढ़ (B) झरिया
(C) कर्णपुरा (D) कोरबा
(E) अनुत्तरित प्रश्न

27 Annapurna certificate is an initiative of the _____.

- (A) National Council of Teacher (B) NITI Aayog
(C) NCERT (D) Indian Council for Cultural Relation (ICCR)
(E) Question not attempted

‘अन्नपूर्णा प्रमाणपत्र’ किसकी पहल है?

- (A) राष्ट्रीय शिक्षक परिषद (B) नीति आयोग
(C) एनसीईआरटी (D) भारतीय सांस्कृतिक संबंध परिषद (आई सी सी आर)
(E) अनुत्तरित प्रश्न

28 Which state stood first in production of Bajra crop in the year 2022-2023?

- (A) Madhya Pradesh (B) Gujarat
(C) Uttar Pradesh (D) Rajasthan
(E) Question not attempted

वर्ष 2022-23 में बाजरा की फसल के उत्पादन में कौन सा राज्य प्रथम स्थान पर रहा?

- (A) मध्य प्रदेश (B) गुजरात
(C) उत्तर प्रदेश (D) राजस्थान
(E) अनुत्तरित प्रश्न

29 What is India's rank in the climate change performance Index 2024?

- (A) 1st rank (B) 7th rank
(C) 16th rank (D) 29th rank
(E) Question not attempted

जलवायु परिवर्तन प्रदर्शन सूचकांक 2024 में भारत का स्थान कौन सा है?

- (A) प्रथम (B) सातवां
(C) सोलहवां (D) उन्नीसवां
(E) अनुत्तरित प्रश्न

30 Which of the following belongs to the category of 4th Generation Language?

- (A) Query Language (B) Assembly Language
(C) High Level Language (D) Machine Language
(E) Question not attempted

निम्न में से चौथी पीढ़ी की भाषा से संबंधित है-

- (A) क्वैरी भाषा (B) एसैम्बली भाषा
(C) हाई लेवल भाषा (D) मशीनी भाषा
(E) अनुत्तरित प्रश्न

31 MS-Word is an example of _____

- (A) An input device (B) System software
(C) Application software (D) An operating system
(E) Question not attempted

एम एस वर्ड एक उदाहरण है _____

- (A) एक इन्पुट डिवाइस का (B) सिस्टम सॉफ्टवेयर का
(C) एप्लीकेशन सॉफ्टवेयर का (D) एक आपरेटिंग सिस्टम का
(E) अनुत्तरित प्रश्न

32 The program and instructions that help a computer in carrying out their processing are known as _____

- (A) Software (B) Hardware
(C) Memory (D) Data
(E) Question not attempted

जो प्रोग्राम और निर्देश कंप्यूटर को प्रोसेसिंग करने में मदद करते हैं, वे कहलाते हैं?

- (A) सॉफ्टवेयर (B) हार्डवेयर
(C) मेमोरी (D) डाटा
(E) अनुत्तरित प्रश्न

33 The difference between 54% of a number and 26% of the same number is 22512. What is 66% of that number?

एक संख्या के 54% और 26% के मध्य का अंतर 22512 है। उस संख्या का 66% कितना होगा?


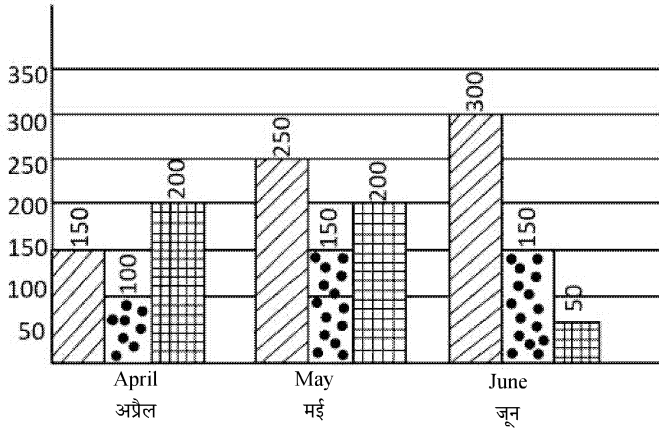
- (A) 53046 (B) 53604
(C) 50364 (D) 53064
(E) Question not attempted / अनुत्तरित प्रश्न

34 The bar graph shows the production of items A, B and C during the months April, May and June

The total production of items A, B and C during April and May are in the ratio

निम्न बार ग्राफ, अप्रैल, मई और जून के महीनों के दौरान वस्तुएँ A, B और C के उत्पादन को दर्शाता है -

अप्रैल और मई के दौरान वस्तु A, B और C का कुल उत्पादन किस अनुपात में है -



- (A) 3:5 (B) 2:3
(C) 1:1 (D) 3:4
(E) Question not attempted / अनुत्तरित प्रश्न

35 From a circular piece of cardboard of radius 3 cm, two sectors of 40° each have been cut off. The area

of the remaining portion (in cm^2) is $\left(\pi = \frac{22}{7}\right)$

एक 3 सेंटीमीटर त्रिज्या वाले वृताकार कार्ड बोर्ड के टुकड़े से 40° के दो सेक्टर काट दिए गए हैं। शेष भाग का क्षेत्रफल (से. मी.²)

है, $\left(\pi = \frac{22}{7}\right)$:

- (A) 11 (B) 22
(C) 33 (D) 44
(E) Question not attempted / अनुत्तरित प्रश्न

36 H, J, M, A, T, U are six members of a family. M is the mother of T. H is the brother of J. A & U are married couple. T is the sister of A. M is the wife of J. How is H related to A? (Choose the most appropriate option from below)

- (A) Brother (B) Father
(C) Uncle (D) Nephew
(E) Question not attempted

H, J, M, A, T, U, एक परिवार के छः सदस्य हैं। T की माँ M है। J का भाई H है। A और U एक शादी-शुदा जोड़ा है। A की बहन T है। J की पत्नी M है। H का A से क्या सम्बन्ध है? (निम्न में से सबसे उपयुक्त विकल्प चुनें)

- (A) भाई (B) पिता
(C) चाचा (D) भतीजा
(E) अनुत्तरित प्रश्न

37 If in a certain code 'ENDEAVOUR' is written as 'DNEVAERUO', then how can 'AMPLIFIER' be written in the same code?

यदि एक निश्चित कोड में 'ENDEAVOUR' को 'DNEVAERUO' लिखा जाता है, तब 'AMPLIFIER' को उसी निश्चित कोड में किस प्रकार लिखा जाएगा?

- (A) PMAFILIER (B) PMAFILREI
(C) DMAFILRVO (D) PMALIFREI
(E) Question not attempted / अनुत्तरित प्रश्न

38 What will come in place of “?”

“?” के स्थान पर क्या आएगा:

M4K, O9I, Q25G, ?, U121C

- (A) P64E (B) S49E
(C) P49E (D) S36F
(E) Question not attempted / अनुत्तरित प्रश्न

39 Which is not a merit of Socialistic economy? (Choose the most appropriate option from below)

- (A) Planned economy (B) Decrease in the freedom of consumer
(C) Equal distribution of income and wealth (D) Assurance of minimum standard of living
(E) Question not attempted

निम्न में से कौन-सा समाजवादी अर्थव्यवस्था का गुण नहीं है? (निम्न में से सबसे उपयुक्त विकल्प चुनें)

- (A) योजनागत अर्थव्यवस्था (B) उपभोक्ता की स्वतंत्रता में कमी
(C) आय और धन (संपत्ति) का समान वितरण (D) न्यूनतम जीवन स्तर का आश्वासन / निश्चितता
(E) अनुत्तरित प्रश्न

40 Which soil is known as “Regur Soil”?

- (A) Black Soil (B) Red Soil
(C) Yellow Soil (D) Laterite Soil
(E) Question not attempted

किस मिट्टी को 'रेगुर मिट्टी' के नाम से जाना जाता है?

- (A) काली मिट्टी (B) लाल मिट्टी
(C) पीली मिट्टी (D) लैटराइट मिट्टी
(E) अनुत्तरित प्रश्न

41 The Nanda Devi Biosphere reserve is situated in _____.

- (A) Uttarakhand (B) Himachal Pradesh
(C) Sikkim (D) Arunachal Pradesh
(E) Question not attempted

'नंदा देवी जैव मण्डल रिजर्व' किस राज्य में स्थित है?

- (A) उत्तराखण्ड (B) हिमाचल प्रदेश
(C) सिक्किम (D) अरुणाचल प्रदेश
(E) अनुत्तरित प्रश्न

42 Which one of the following is a plantation crop?

- (A) Tea (B) Wheat
(C) Rice (D) Bajara
(E) Question not attempted

निम्नलिखित में से कौन एक रोपण (प्लान्टेशन) फसल है?

- (A) चाय (B) गेहूँ
(C) चावल (D) बाजरा
(E) अनुत्तरित प्रश्न

43 Who amongst the following was awarded the Ramon Magsaysay Award?

- (A) Karpur Chandra Kulish (B) Dr. Pramod Karan Sethi
(C) Pt. Vishwa Mohan Bhatt (D) Komal Kothari
(E) Question not attempted

निम्नलिखित में से किसे रमन मैगसेसे पुरस्कार से सम्मानित किया गया था?

- (A) कर्पूरचंद्र कुलिश (B) डॉ. प्रमोद करण सेठी
(C) पण्डित विश्व मोहन भट्ट (D) कोमल कोठारी
(E) अनुत्तरित प्रश्न

44 Which of the following statements is not correct about the administration during the Mughal Period?

- (A) Sardar-Mir-e Sana was the Chief of Naval department
- (B) Mughal administration system was fusion of Indian and foreign administration system
- (C) The emperor was the supreme authority
- (D) Provincial administration was divided into Subas
- (E) Question not attempted

मुगल काल के दौरान प्रशासन के बारे में निम्नलिखित में से कौन सा कथन सही नहीं है?

- (A) सरदार-मीर-ए सना नौसेना विभाग के प्रमुख थे।
- (B) मुगल प्रशासन प्रणाली भारतीय और विदेशी प्रशासन प्रणाली का मिश्रण थी।
- (C) मुगल शासक सर्वोच्च प्राधिकारी था।
- (D) प्रांतीय प्रशासन को सूबों में विभाजित किया गया था।
- (E) अनुत्तरित प्रश्न

45 “Kevalya” is associated with _____.

- (A) Philosophy of Buddha
- (B) Philosophy of Jainism
- (C) Vaidik Philosophy
- (D) Persian Philosophy
- (E) Question not attempted

‘कैवल्य’ सम्बंधित है-

- (A) बुद्ध दर्शन से
- (B) जैन दर्शन से
- (C) वैदिक दर्शन से
- (D) फ़ारसी दर्शन से
- (E) अनुत्तरित प्रश्न

46 Which is not a natural ecosystem?

- (A) Mountain
- (B) Aquarium
- (C) Desert
- (D) Forest
- (E) Question not attempted

कौन सा एक प्राकृतिक पारितंत्र (इकोसिस्टम) नहीं है?

- (A) पर्वत
- (B) मछली घर
- (C) रेगिस्तान
- (D) जंगल
- (E) अनुत्तरित प्रश्न

- 47 The National anthem of India 'Jan Gan Man' was written by-
- (A) Sarojini Naidu (B) Bankim Chandra Chattopadhyay
(C) Sharat Chandra Chattopadhyay (D) Rabinder Nath Tagore
(E) Question not attempted

भारत का राष्ट्रगान 'जन गण मन' के रचयिता हैं-

- (A) सरोजिनी नायडू (B) बंकिमचन्द्र चट्टोपाध्याय
(C) शरतचन्द्र चट्टोपाध्याय (D) रबीन्द्र नाथ टैगोर
(E) अनुत्तरित प्रश्न

- 48 The length of the longest highway tunnel (Atal tunnel) is

सबसे लंबी हाइवे सुरंग (अटल सुरंग) की लम्बाई है-

- (A) 4.03 km (B) 11.78 km
(C) 7.58 km (D) 9.02 km
(E) Question not attempted / अनुत्तरित प्रश्न

- 49 'श्रवणीय' शब्द में कौन-सा प्रत्यय है?

- (A) श्रु (B) अनीय
(C) श्रव (D) य
(E) अनुत्तरित प्रश्न

- 50 'अंधेरा' शब्द में कौन-सा प्रत्यय है?

- (A) अंध (B) एरा
(C) इया (D) आरा
(E) अनुत्तरित प्रश्न

- 51 सूची I का सूची II से मिलान कीजिए

सूची-I (शब्द)	सूची-II (विलोम)
a. जंगम	I. लाघव
b. गौरव	II. नश्वर
c. चिरंतन	III. सुधा
d. गरल	IV. स्थावर

नीचे दिए गए विकल्पों में से सर्वाधिक उपयुक्त उत्तर का चयन कीजिए

- (A) a - IV, b - I, c - II, d - III (B) a - II, b - I, c - IV, d - III
(C) a - IV, b - I, c - III, d - II (D) a - I, b - III, c - II, d - IV
(E) अनुत्तरित प्रश्न

52 Fill in the blank in the sentence given, choosing the most appropriate word from the options provided.

John's record in swimming is _____ than that of Sonia, this year.

- (A) best (B) better
(C) good (D) good as
(E) Question not attempted

53 Fill in the blank in the sentence below, choosing the most appropriate preposition from the option provided.

There was a long queue _____ the milk booth as the milk supply van had got delayed.

- (A) on (B) from
(C) at (D) into
(E) Question not attempted

54 Choose the correct option in reported speech for the sentence given, from the options provided.

He said, "I am yet to propose to a girl I have been dating for a year."

- (A) He said that he was yet to propose to a girl he had been dating for a year.
(B) He said that he will propose to a girl he has been dating for a year.
(C) He said that he was proposing to a girl he was dating.
(D) He said he would be proposing to a girl he has been dating.
(E) Question not attempted

55 Fill in the blank in the sentence given, choosing the most suitable article from the options provided.

The train takes _____ full day to reach my destination.

- (A) a (B) no article
(C) the (D) an
(E) Question not attempted

56 What does PC stand for in reference to the Computer?

- (A) Program Counter (B) Personal Computer
(C) Performance Counter (D) Program Changer
(E) Question not attempted

कम्प्यूटर के संदर्भ में पी-सी का क्या अर्थ है?

- (A) प्रोग्राम काउंटर (B) पर्सनल कंप्यूटर
(C) परफार्मेंस काउंटर (D) प्रोग्राम परिवर्तक
(E) अनुत्तरित प्रश्न

57 Which one is the example of first binary programable computer based on Von Neumann architecture?

- (A) UNIVAC (B) ENIAC
(C) EDSAC (D) EDVAC
(E) Question not attempted

निम्नलिखित में से कौन सा प्रथम बाईनरी प्रोग्रामेबल कंप्यूटर जो कि वोन न्यूमैन निर्माण पर आधारित है?

- (A) यूनीवैक (UNIVAC) (B) एनीऐक (ENIAC)
(C) एडसैक (EDSAC) (D) एडवैक (EDVAC)
(E) अनुत्तरित प्रश्न

58 Which of the following is the fastest memory of a computer? (Choose the most appropriate option from below)

- (A) DVD ROMs (B) Static RAM
(C) Hard Disk (D) Cache Memory
(E) Question not attempted

निम्नलिखित में से कंप्यूटर की सबसे तेज मेमोरी कौन सी होती है? (निम्न में से सबसे उपयुक्त विकल्प को चुनें)

- (A) डी. वी. डी. रोम (DVD ROMs) (B) स्थैतिक रैम (Static RAM)
(C) हार्ड डिस्क (Hard Disk) (D) कैश मेमोरी (Cache Memory)
(E) अनुत्तरित प्रश्न

59 Which of the following was Capital of Vatsa Mahajanapada?

- (A) Taxila (B) Virat Nagar
(C) Kaushambi (D) Champa
(E) Question not attempted

निम्नलिखित में से कौन वत्स महाजनपद की राजधानी थी?

- (A) तक्षशिला (B) विराट नगर
(C) कौशाम्बी (D) चम्पा
(E) अनुत्तरित प्रश्न

60 To make pure food commodity available to all the consumers of the Rajasthan State, which campaign is being conducted by the government of Rajasthan since 26th October 2020?

- (A) Nirogi Rajasthan Abhiyan (B) Chiranjeevi Swasthya Yojana
(C) Indira Rasoi Yojana (D) Shuddh ke liye Yuddh Abhiyan
(E) Question not attempted

राजस्थान राज्य के सभी उपभोक्ताओं को शुद्ध खाद्य वस्तु उपलब्ध कराने के लिए राजस्थान सरकार द्वारा 26 अक्टूबर 2020 से चलाया जा रहा एक अभियान है-

- (A) निरोगी राजस्थान अभियान (B) चिरंजीवी स्वास्थ्य योजना
(C) इंदिरा रसोई योजना (D) शुद्ध के लिए युद्ध अभियान
(E) अनुत्तरित प्रश्न

61 In Plain Area, Pradhan Mantri Awas Yojana (Gramin) 2024 has contributions by Central government and state government in the ratio of-

मैदानी क्षेत्रों में प्रधानमंत्री आवास योजना (ग्रामीण) 2024 के अंतर्गत केंद्र सरकार और राज्य सरकार द्वारा योगदान का अनुपात है-

- (A) 60 : 40 (B) 70 : 30
(C) 50 : 50 (D) 80 : 20
(E) Question not attempted / अनुत्तरित प्रश्न

62 What name was given to the rover sent with the Chandrayan-3 Mission by ISRO?

- (A) Gyan Ganga (B) Vikram
(C) Pragyan (D) Aditya L-1
(E) Question not attempted

इसरो (ISRO) द्वारा चंद्रयान-3 मिशन के साथ भेजे गए रोवर को क्या नाम दिया गया था?

- (A) ज्ञान गंगा (B) विक्रम
(C) प्रज्ञान (D) आदित्य L-1
(E) अनुत्तरित प्रश्न

63 Keibul Lamjao National Park is situated in _____.

- (A) Assam (B) Tripura
(C) Nagaland (D) Manipur
(E) Question not attempted

केयबुल लामजाओ राष्ट्रीय उद्यान स्थित है-

- (A) असम में (B) त्रिपुरा में
(C) नागालैंड में (D) मणिपुर में
(E) अनुत्तरित प्रश्न

64 Divisional Headquarter of Indira Gandhi Canal Project is situated at -

- (A) Bikaner (B) Hanumangarh
(C) Jaisalmer (D) Jaipur
(E) Question not attempted

इन्दिरा गाँधी नहर परियोजना का संभागीय मुख्यालय कहाँ स्थित है?

- (A) बीकानेर (B) हनुमानगढ़
(C) जैसलमेर (D) जयपुर
(E) अनुत्तरित प्रश्न

65 Which of the following steel plant was established with collaboration of Germany?

- (A) Durgapur (B) Bokaro
(C) Rourkela (D) Bhilai
(E) Question not attempted

निम्नलिखित में से कौन सा इस्पात संयंत्र जर्मनी के सहयोग से स्थापित किया गया था?

- (A) दुर्गापुर (B) बोकारो
(C) राउरकेला (D) भिलाई
(E) अनुत्तरित प्रश्न

66 "Declaration of the Rights of Women and Citizen" was written by:

- (A) Montesquieu (B) Napoleon Bonaparte
(C) Olype de Gouges (D) Rousseau
(E) Question not attempted

"महिलाओं और नागरिकों के अधिकारों की घोषणा" किसके द्वारा लिखी गई?

- (A) मोंटेस्क्यू (B) नेपोलियन बोनापार्ट
(C) ओलम्प दे गूज़ (D) रूसो
(E) अनुत्तरित प्रश्न

67 The group of all adult citizens of the rural area is called _____

- (A) Gram Sabha (B) Village Panchayat
(C) Panchayat Samiti (D) Zila Parishad
(E) Question not attempted

ग्रामीण क्षेत्र के सभी वयस्क नागरिकों के समूह को _____ कहा जाता है।

- (A) ग्राम सभा (B) ग्राम पंचायत
(C) पंचायत समिति (D) जिला परिषद
(E) अनुत्तरित प्रश्न

68 If T=20, TEA=26, then TEN=?

यदि T=20, TEA=26, तो TEN=?

- (A) 39 (B) 41
(C) 10 (D) 40
(E) Question not attempted / अनुत्तरित प्रश्न

69 Which day of the week was on 29 February, 2004?

- (A) Sunday (B) Monday
(C) Tuesday (D) Wednesday
(E) Question not attempted

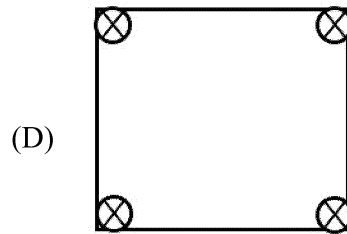
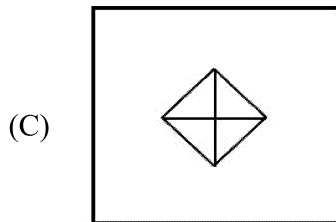
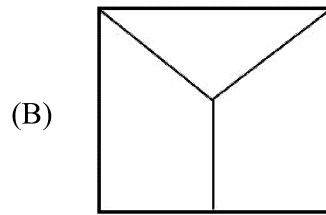
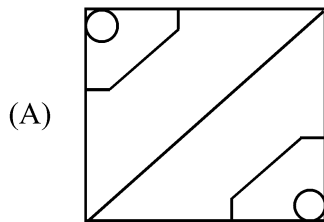

29 फरवरी, 2004 को सप्ताह का कौन-सा दिन था?

- (A) रविवार (B) सोमवार
(C) मंगलवार (D) बुधवार
(E) अनुत्तरित प्रश्न

70 In the following question, choose the answer which is embedded in the problem figure.

निम्नलिखित प्रश्न में वह उत्तर चुनें, जो समस्या चित्र में सन्निहित है:

Problem Figure / समस्या चित्र



- (E) Question not attempted / अनुत्तरित प्रश्न

71 Which of the following option is correct water image of given group of letters?

निम्नलिखित में से कौन-सा विकल्प दिए गए अक्षरों के समूह की सही जल छवि है?

YOUTH



- (A) YOUNTH (B) YOUTH
(C) LYOUTH (D) LYONTH
(E) Question not attempted / अनुत्तरित प्रश्न

72 Who was the Founder of the Chauhan dynasty of Ranthambhore (1194 AD)?

- (A) Govindraj (B) Prithviraj
(C) Jaichand (D) Anangpal
(E) Question not attempted

रणथंभौर के चौहान राजवंश (1194 AD) के संस्थापक कौन थे?

- (A) गोविन्दराज (B) पृथ्वीराज
(C) जयचंद (D) अनंगपाल
(E) अनुत्तरित प्रश्न

73 Treaty of Purandar 1665 took place between_____

- (A) Aurangzeb and Shivaji (B) Shivaji and Jaisingh I
(C) Aurangzeb and Jaisingh I (D) Rao Shekha and Shivaji
(E) Question not attempted

1665 की पुरंदर की संधि किनके बीच हुई थी?

- (A) औरंगजेब और शिवाजी (B) शिवाजी और जयसिंह I
(C) औरंगजेब और जयसिंह I (D) राव शेखा और शिवाजी
(E) अनुत्तरित प्रश्न

74 Which of the following is a fresh water lake of Rajasthan?

- (A) Sambhar Lake (B) Pachpadra Lake
(C) Didwana Lake (D) Udai Sagar lake
(E) Question not attempted

निम्नलिखित में से राजस्थान में मीठे पानी की झील कौन सी है?

- (A) सांभर झील (B) पचपदरा झील
(C) डीडवाना झील (D) उदय सागर झील
(E) अनुत्तरित प्रश्न

75 Which of the following rural local self government body plays the role of co-joinder chain between the state government and panchayat samiti?

- (A) Gram Panchayat (B) Zila Parishad
(C) Sarpanch (D) Municipality
(E) Question not attempted

निम्नलिखित में से कौन ग्रामीण स्थानीय स्व-निकाय, राज्य सरकार और पंचायत समिति के बीच सह-योजक श्रृंखला की भूमिका निभाता है?

- (A) ग्राम पंचायत (B) जिला परिषद
(C) सरपंच (D) नगरपालिका
(E) अनुत्तरित प्रश्न

76 Which schedule of Indian Constitution deals with municipalities?

- (A) Eighth (B) Tenth
(C) Twelfth (D) Eleventh
(E) Question not attempted

भारतीय संविधान की कौन-सी अनुसूची नगर पालिकाओं से संबंधित है?

- (A) आठवीं (B) दसवीं
(C) बारहवीं (D) ग्यारहवीं
(E) अनुत्तरित प्रश्न

77 Present Vice President of India is _____

- (A) M.Venakaiah Naidu (B) Jagdeep Dhankhar
(C) Dr. Sarvepalli Radhakrishnan (D) Droupadi Murmu
(E) Question not attempted

भारत के वर्तमान उप-राष्ट्रपति हैं:-

- (A) एम. वैक्या नायडू (B) जगदीप धनखड़
(C) डॉ सर्वपल्ली राधाकृष्णन (D) द्रौपदी मुर्मू
(E) अनुत्तरित प्रश्न

78 Who was the first Chairman of the Planning Commission?

- (A) K.N. Raj (B) P.C. Mahalanobis
(C) Jawahar Lal Nehru (D) Sardar Vallabh Bhai Patel
(E) Question not attempted

योजना आयोग के प्रथम अध्यक्ष कौन थे?

- (A) के.एन.राज (B) पी.सी. महालानोबिस
(C) जवाहर लाल नेहरू (D) सरदार वल्लभ भाई पटेल
(E) अनुत्तरित प्रश्न

79 Name an ongoing central government scheme in which support of ₹ 6000/- per year in three equal installments is provided to all land holding farmer families.

- (A) PM Krishi Sinchai Yojana (B) PM Kisan Maandhan Yojana
(C) Promotion of Farmer producer (D) PM Kisan Samman Nidhi
(E) Question not attempted

केंद्रीय सरकार द्वारा संचालित उस योजना का नाम, जिसमें भूमिधारक किसान परिवार को तीन समान किस्तों में प्रति वर्ष कुल ₹ 6000/- की सहायता राशि दी जाती है

- (A) प्रधानमंत्री कृषि सिंचाई योजना (B) प्रधानमंत्री किसान मानधन योजना
(C) कृषक उत्पादक को प्रोत्साहन (D) प्रधानमंत्री किसान सम्मान निधि
(E) अनुत्तरित प्रश्न

- 80** The LCM of two numbers is 960 and their HCF is 24. If one of the number is 192, then the other numbers is
- दो संख्याओं का लघुतम समापवर्तक (LCM) 960 है और उनका महतम समापवर्तक (HCF) 24 है। यदि संख्याओं में से एक संख्या 192 है, तो दूसरी संख्या होगी:
- (A) 5 (B) 8
(C) 40 (D) 120
(E) Question not attempted / अनुत्तरित प्रश्न
- 81** In five given numbers, the average of first two numbers is 8, that of the first four numbers is 12 and that of the last three numbers is 17. Find the fifth number.
- दी गई पाँच संख्याओं में से पहली दो संख्याओं का औसत 8 है। पहली चार संख्याओं का औसत 12 है और अंतिम तीन संख्याओं का औसत 17 है तो पाँचवीं संख्या ज्ञात करें।
- (A) 15 (B) 17
(C) 18 (D) 19
(E) Question not attempted / अनुत्तरित प्रश्न
- 82** A shopkeeper sold an item at 20% loss. If he had sold that item at ₹ 375 more, then he would have gained 5%. The cost price of the item is
- एक दुकानदार एक वस्तु को 20% हानि के साथ बेचता है। यदि वह उस वस्तु को ₹ 375 रुपये और अधिक पर बेचता तब उसे 5% का लाभ होता है, तो वस्तु का लागत मूल्य है-
- (A) ₹ 1280 (B) ₹ 1350
(C) ₹ 1455 (D) ₹ 1500
(E) Question not attempted / अनुत्तरित प्रश्न
- 83** Which of the following operating systems is based on Command Line Interface (CLI)?
- (A) Window NT (B) Window 2000
(C) Window 11 (D) MS-DOS
(E) Question not attempted
- निम्नलिखित में से कौन-सा ऑपरेटिंग सिस्टम कमांड लाइन इंटरफेस (सी.एल.आई) पर आधारित होता है?
- (A) विंडोज NT (B) विंडोज 2000
(C) विंडोज 11 (D) एम एस-डॉस
(E) अनुत्तरित प्रश्न

84 Name the output device used to output video.

- (A) Printer (B) Monitor
(C) Speaker (D) Scanner
(E) Question not attempted

वीडियो आउटपुट के लिए उपयोग किए जाने वाले आउटपुट डिवाइस का नाम बताइए।

- (A) प्रिन्टर (B) मोनीटर
(C) स्पीकर (D) स्कैनर
(E) अनुत्तरित प्रश्न

85 What is the full form of RRECL?

- (A) Rajasthan Rural Energy Corporation Limited
(B) Rajasthan Rural Energy Company Limited
(C) Rajasthan Renewable Energy Corporation Limited
(D) Rajasthan Renewable Energy Company Limited
(E) Question not attempted

आर. आर. ई. सी. एल. (RRECL) का पूर्ण रूप है-

- (A) राजस्थान रूरल एनर्जी कॉरपोरेशन लिमिटेड
(B) राजस्थान रूरल एनर्जी कंपनी लिमिटेड
(C) राजस्थान रिन्यूएबल एनर्जी कॉरपोरेशन लिमिटेड
(D) राजस्थान रिन्यूएबल एनर्जी कंपनी लिमिटेड
(E) अनुत्तरित प्रश्न

86 "NABARD" (National Bank For Agriculture and Rural Development) was established in _____.

राष्ट्रीय कृषि और ग्रामीण विकास बैंक (नाबार्ड) की स्थापना की गई _____

- (A) 1980 (B) 1981
(C) 1982 (D) 1985
(E) Question not attempted / अनुत्तरित प्रश्न

87 Identify the statement which is not correct about the Rubber crop.

- (A) It is an equatorial crop.
- (B) It requires dry climate.
- (C) It is an Important Industrial raw material.
- (D) It is mainly grown in Kerala, Tamil Nadu and Karnataka.
- (E) Question not attempted

उस कथन की पहचान करें जो रबड़ की फसल के बारे में सही नहीं है

- (A) यह एक भूमध्यरेखीय फसल है।
- (B) इसके लिए शुष्क जलवायु की आवश्यकता होती है।
- (C) यह एक महत्वपूर्ण औद्योगिक कच्चा माल है।
- (D) यह मुख्य रूप से केरल, तमिलनाडु, और कर्नाटक में उगाया जाता है।
- (E) अनुत्तरित प्रश्न

88 Land reform was the main focus of our _____ Five Year Plan.

- (A) First
- (B) Second
- (C) Third
- (D) Sixth
- (E) Question not attempted

भूमि सुधार हमारी _____ पंचवर्षीय योजना का मुख्य लक्ष्य (फोकस) था।

- (A) प्रथम
- (B) द्वितीय
- (C) तृतीय
- (D) छठी
- (E) अनुत्तरित प्रश्न

89 The difference between compound interest and simple interest on a certain sum for 2 years at 5% per annum is ₹ 279. The sum is

एक निश्चित राशि पर 5% की दर से 2 वर्षों के लिए चक्रवृद्धि ब्याज और साधारण ब्याज के मध्य अंतर ₹ 279 है। तब यह राशि होगी-

- (A) ₹ 1,00,000
- (B) ₹ 1,10,000
- (C) ₹ 1,11,600
- (D) ₹ 1,16,000
- (E) Question not attempted / अनुत्तरित प्रश्न

90 If $\frac{1}{x} : \frac{1}{y} : \frac{1}{z} = 2 : 3 : 5$, then $x : y : z =$

यदि $\frac{1}{x} : \frac{1}{y} : \frac{1}{z} = 2 : 3 : 5$, तब $x : y : z =$

- (A) 6:15:10 (B) 15:3:10
(C) 15:10:3 (D) 15:10:6
(E) Question not attempted / अनुत्तरित प्रश्न

91 निम्नलिखित में से कौन-सा शब्द शुद्ध नहीं है?

- (A) सैन्धव (B) क्षिप्रहस्त
(C) चकर्पाणि (D) जातिच्युत
(E) अनुत्तरित प्रश्न

92 'संकल्प' शब्द में कौन-सा उपसर्ग है?

- (A) सन् (B) अल्प
(C) सम् (D) संग्
(E) अनुत्तरित प्रश्न

93 'दुस्साहस' शब्द में कौन-सा उपसर्ग है?

- (A) दुस (B) दुस्
(C) दुश (D) दुर्
(E) अनुत्तरित प्रश्न

94 'कोठी वाला रोवै छप्पर वाला सोवै' कहावत का सही अर्थ है:

- (A) सुविधा में कमी बनी रहना (B) अधिक धन चिंता का कारण होता है
(C) नींद न आना (D) अमीर और गरीब की तुलना करना
(E) अनुत्तरित प्रश्न

95 निम्नांकित वाक्य में क्रिया की कौन-सी अशुद्धि है?

“संध्या नृत्य करता है”

- (A) विशेषण संबंधी (B) लिंग संबंधी
(C) वचन संबंधी (D) अव्यय संबंधी
(E) अनुत्तरित प्रश्न

96 Match List-I with List-II

List-I

(Word)

- a. Discourage
b. Attractive
c. Strict
d. Denounce

List-II

(Opposite)

- I. Lax
II. Encourage
III. Accept
IV. Repulsive

Choose the most appropriate answer from the options given below:

- (A) a - IV, b - II, c - III, d - I (B) a - I, b - III, c - IV, d - II
(C) a - II, b - IV, c - I, d - III (D) a - III, b - I, c - II, d - IV
(E) Question not attempted

97 Match List-I with List-II

List-I

- a. Extol / Extol
b. Obscure
c. Thrifty
d. Enigmatic

List-II

- I. Vague
II. Frugal
III. Mysterious
IV. Laud

Choose the most appropriate answer from the options given below:

- (A) a - II, b - III, c - I, d - IV (B) a - IV, b - I, c - II, d - III
(C) a - I, b - IV, c - III, d - II (D) a - III, b - II, c - IV, d - I
(E) Question not attempted

98 Choose the most appropriate option to complete the sentence given

The language used in floating a tender is

- (A) brief and to the point
- (B) descriptive and exhaustive
- (C) informal and casual
- (D) elaborate and flowery
- (E) Question not attempted

99 'आँखे फेर लेना' इस मुहावरे का अर्थ है- (निम्न में से सबसे उपयुक्त विकल्प को चुनें)

- (A) नजर बचाना
- (B) उदासीन हो जाना
- (C) प्रभाव जमना
- (D) आमने-सामने होना
- (E) अनुत्तरित प्रश्न

100 सूची I का सूची II से मिलान कीजिए

सूची-I (शब्द)	सूची-II (पर्यायवाची)
a. अश्व	I. अंशु
b. किरण	II. सुरसरित
c. गंगा	III. घोटक
d. इंद्र	IV. वासव

नीचे दिए गए विकल्पों में से सर्वाधिक उपयुक्त उत्तर का चयन कीजिए

- (A) a - I, b - II, c - III, d - IV
- (B) a - III, b - II, c - I, d - IV
- (C) a - III, b - I, c - II, d - IV
- (D) a - IV, b - I, c - III, d - II
- (E) अनुत्तरित प्रश्न

SPACE FOR ROUGH WORK / रफ कार्य के लिए स्थान

SPACE FOR ROUGH WORK / रफ कार्य के लिए स्थान

उत्तर पत्रक में दो प्रतियाँ हैं – मूल प्रति और द्वितीय प्रति, परीक्षा समाप्ति पर परीक्षा कक्ष छोड़ने से पूर्व परीक्षार्थी उत्तर पत्रक की दोनों प्रतियाँ वीक्षक को सौंपेंगे, परीक्षार्थी स्वयं द्वितीय प्रति को अलग नहीं करें। वीक्षक द्वारा उत्तर पत्रक की मूल प्रति को अपने पास जमा कर, द्वितीय प्रति को मूल प्रति से कट लाइन से मोड़ कर सावधानी पूर्वक अलग कर परीक्षार्थी को सौंपेंगे। परीक्षार्थी द्वितीय प्रति को अपने साथ ले जायेंगे।